

一、單題（每題 2.5 分，共 100 分）

1. () 日前曾有媒體報導，指稱中國政府與古巴達成協議，以數十億美元為代價，獲得古巴同意建立監聽設施，監聽美國東南地區的電子通信，收集美方的軍事機密，此傳聞後遭美國與古巴雙方否認。歷史上哪一國家也曾利用古巴的地理位置，近距離威脅美國本土安全？

(A)英國 (B)蘇聯 (C)德國 (D)以色列。

答案：(B)

() 林同學計畫利用暑假到美國進行文化之旅，如果他想深入了解美國獨立戰爭與建國初期的重要城市與地標，他應該選擇下列哪一行程？

(A)「西岸奇景」舊金山 8 日遊 (B)「陽光假期」夏威夷 7 日遊 (C)「南方風情」邁阿密 8 日遊 (D)「東岸旅行趣」費城 7 日遊。

答案：(D)

2. () 臺灣不僅大量進出口貨物，許多外國資金也進入臺灣市場，臺商也參與競爭日益激烈的世界經濟版圖。上述是屬於何種全球化的發展？

(A)經濟全球化 (B)政治全球化 (C)文化全球化 (D)環境全球化。

答案：(A)

3. () 臺灣現在栽培的火龍果以自行選育出來的白肉與紅肉品種為主，是夏季常見的水果之一。雖然臺灣火龍果的花期在每年 4~10 月之間，不過業者為了延長產季，使用夜間燈照技術，使火龍果也能在冬季開花。依上述內容判斷，業者的行為主要是為了下列何種理由？

(A)在短時間內，大規模殺死病蟲害 (B)依市場需求，調整作物生產產期 (C)可使農地較肥沃，利於作物生長 (D)農村人口老化，勞動力嚴重不足。

答案：(B)

4. () 奕潔參觀社會科科展作品時，看到作者採用下述案例，請判斷此作品探討的主題最可能為下列何者？

知名企業電腦主機遭駭客技術侵入，犯罪分子要求企業負責人支付破億贖金，否則將公開公司機密文件，警方獲報介入偵辦，發現受害的企業不只一家。

(A)假訊息造成的影響力 (B)企業擔負的社會責任 (C)民眾權益與行政救濟 (D)科技發展產生的風險。

答案：(D)

5. () 「北大西洋公約組織、柏林危機、古巴危機、華沙公約組織、以阿衝突」。以上史實的發生或成立，其共同背景是什麼？

(A)歐盟的成立 (B)中國的崛起 (C)第二次世界大戰 (D)冷戰。

答案：(D)

6. () 筠卉看到以下一則報導，根據內容判斷，下列推論何者最正確？

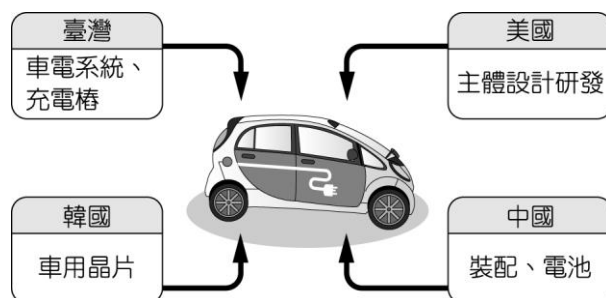
歐洲特報

立陶宛同意臺灣設立代表處，雙方建立正式官方關係，中國當局對此發出嚴厲譴責，並對立陶宛實施外交降級與經濟制裁，所幸立陶宛政府堅定支持我國。

(A)我國努力爭取國際友誼 (B)立陶宛對中國表達順從 (C)我國與立陶宛關係停滯 (D)中國在國際上受到打壓。

答案：(A)

7. () 附圖為婉婷繪製某電動車大廠生產供應鏈的示意圖，她想表達的概念應為下列何者？



(A)軍事全球化 (B)政治全球化 (C)文化全球化 (D)經濟全球化。

答案：(D)

8. () 西元 1914 年發生於歐洲的「塞拉耶佛事件」(奧匈帝國皇位繼承人遭塞爾維亞人刺殺)，原為奧、塞之間的區域衝突，結果卻演變為第一次世界大戰的導火線，造成這種情況的原因為何？〔93.第一次基測修訂〕

(A)不同國家結盟對立 (B)國際姑息主義高漲 (C)美國實行孤立主義 (D)民族解放運動興盛。

答案：(A)

10. () 目前我們對基因改造食品對人體可能產生的影響所知有限，因此其原料須於上市前通過審核，目前衛福部選定下列何種作物作為優先管制？

(A)燕麥 (B)玉米 (C)地瓜 (D)馬鈴薯。

答案：(B)

11. () 下列哪項行為是執行低碳飲食的作法之一？

(A)選擇包裝精美的結婚禮盒 (B)選擇在地、當地的食物 (C)購買美國空運來臺的櫻桃、蘋果 (D)大量購買普

渡拜拜的肉品、水果。

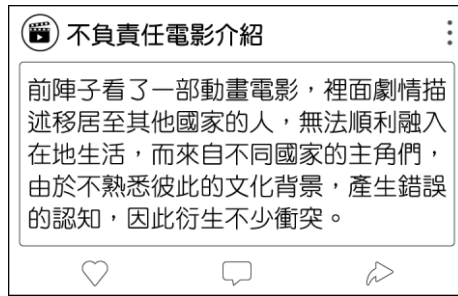
答案：(B)

12. () 美國獨立後，其憲法採取何人的學說，制定三權分立，互相制衡？

(A) 洛克 (B) 盧梭 (C) 孟德斯鳩 (D) 伏爾泰。

答案：(C)

13. () 毓鈴喜歡在社群媒體上分享各類電影的觀後感，如附圖所示，下列敘述何者符合其探討的電影內容？



(A) 外國移民存在文化適應問題 (B) 在地文化因外來文化而改變 (C) 政府立法排拒外國移民遷入 (D) 全球的文化逐漸趨向單一化。

答案：(A)

14. () 嘉義縣民雄鄉三興村陳厝寮，其得名於陳姓先民搭寮拓墾。上述的「陳姓先民」最可能是哪一個族群？

(A) 閩南人 (B) 客家人 (C) 外省人 (D) 原住民族。

答案：(A)

15. () 下列哪一種國際社會的互動方式不屬於「國際合作」？

(A) 中國與俄羅斯共同簽署「中俄跨界水體水質聯合監測計畫」 (B) 我國與巴拉圭簽署《臺巴經濟合作協定》，全面提升兩國雙邊經貿關係 (C) 我國國際合作發展基金會與民間醫療界組成行動醫療團前往非洲義診 (D) 我國與印度簽署《臺印度鐵道遺產合作意向書》，為維護及管理鐵道遺產共同努力。

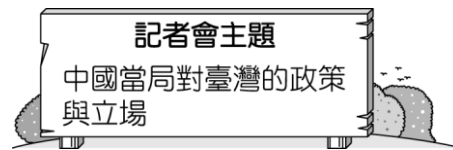
答案：(C)

16. () 下列哪一個國家在 19 世紀時，控制義大利許多地區，成為義大利統一的最大障礙？

(A) 西班牙 (B) 葡萄牙 (C) 奧國 (D) 英國。

答案：(C)

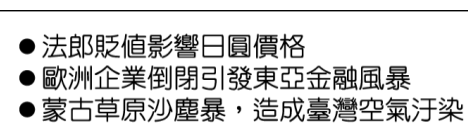
17. () 數家外國媒體參加一場國際記者會，根據附圖所示，他們較可能聽到的發言內容為下列何者？



(A) 臺灣是主權獨立的國家 (B) 臺灣與中國互不隸屬 (C) 建議臺灣加入聯合國 (D) 堅持「一個中國」原則。

答案：(D)

18. () 老師請同學就所蒐集的資料進行報告，附圖是中逸整理出報紙的部分標題。根據內容判斷，他應是以下列何者為報告主題？〔94. 第一次基測〕



(A) 全球化 (B) 區域性 (C) 永續發展 (D) 國際分工。

答案：(A)

19. () 在美國芝加哥的街頭上，失業者在救濟站前大排長龍，他們的工廠停工、商店關門、銀行倒閉。請問：這種景象出現在什麼時候？

(A) 美國獨立建國之初 (B) 第一次世界大戰前夕 (C) 兩次世界大戰之間 (D) 第二次世界大戰之後。

答案：(C)

20. () ○○ 舊稱雞籠，其名稱取自原住民族雞籠社的社名。附圖為臺灣原住民族分布圖，根據附圖可以推測「○○」與下列何族最相關？



(A)泰雅族 (B)噶瑪蘭族 (C)道卡斯族 (D)凱達格蘭族。

答案：(D)

21. () 「食物里程」是指食物從生產地送到消費者手中的運送距離。某企業的老闆在臺中市舉辦年終尾牙宴時，為響應節能減碳、降低污染的環保政策，於是考量食物里程來選用水果。若皆以相同款式的貨車運送，選用下列哪一產地直銷的水果，最能符合該老闆的想法？【99.第二次基測】

(A)雲林的柳丁 (B)屏東的蓮霧 (C)宜蘭的番茄 (D)高雄的芭樂。

答案：(A)

22. () 第一次世界大戰期間，1918年3月至7月，德軍接連於西線發動五次大規模的攻勢，頭兩次攻勢在損兵14萬後仍無所獲，此時協約國兵力大增。該年5月底，德軍發動第三次攻勢，仍無法殲滅英法聯軍的主力。請問：協約國兵力大增的原因，與下列哪一個國家的參戰有關？

(A)俄國 (B)義大利 (C)美國 (D)日本。

答案：(C)

23. () 戰間期，德國、義大利、日本等國的歷史發展，有何相同之處？

(A)都積極向海外推展貿易 (B)均以經濟改革解決經濟危機 (C)均制定了民主共和的憲法 (D)都積極向外侵略發展。

答案：(D)

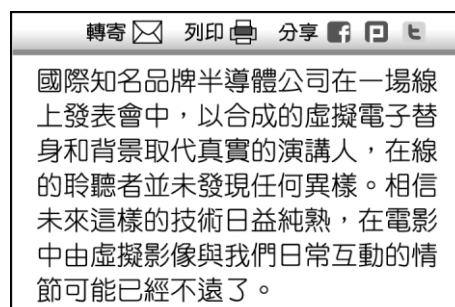
24. () 某稻農因應外在環境的衝擊，而依據附表的調查分析，改變其耕作與經營模式，以提升獲利。上述現象反映出農業發展的何種特色？【111年會考補考】

養生穀物消費調查	
消費族群分析	消費者偏好分析
1. 年齡：	1. 品種：
2. 性別：	2. 口感：
3. 職業：	3. 營養價值：
4. ……	4. 價格：
	5. ……

(A)全球化經營 (B)機械化生產 (C)勞動力老化 (D)產品商品化。

答案：(D)

25. () 璇坤在社群網站上發表自己的想法，根據附圖內容判斷，下列說明何項正確？



(A)政府部門應擔負打擊假訊息的責任 (B)人與人之間的互動衝突將與日俱增 (C)人類的互動模式因科技發展而產生改變 (D)民眾線上參與反應較實體參與為佳。

答案：(C)

26. (A)宗教改革 (B)文化多元 (C)商業循環 (D)全球關連。

答案：(D)

27. () 附圖是 19 世紀時，普魯士王國首相的一段演說。請問：其中提到的「鐵」和「血」分別是指什麼？



(A)民主、科學 (B)武器、戰爭 (C)外交、政治 (D)民族、自由。

答案：(B)

28. () 下列哪些代表冷戰時代的區域性戰爭？(甲)韓戰(乙)越戰(丙)以阿戰爭(丁)德法戰爭

(A)甲乙丙 (B)甲乙丁 (C)甲丙丁 (D)乙丙丁。

答案：(A)

29. () 附表是行政院農業部統計的國人熱量供應來源主要四種食物資料，從資料中的年度數據相較，其中民國 108 年食物供應量遠低於民國 80 年的只有稻米，其主要原因為何？

民國	稻米	麵粉	油脂	肉類
80 年	21.0	9.8	20.0	10.9
108 年	15.8	13.2	20.2	14.9

(A)稻米價格比較昂貴 (B)稻農人口逐漸減少 (C)稻作病蟲害較嚴重 (D)國人飲食習慣改變。

答案：(D)

30. () 當第一次世界大戰進行到 1917 年時，同盟國各條戰線的進攻都已經被瓦解，德國已經無法發動任何一場具威脅性、有實際作戰意義的戰役。請問：當時哪一事件使德軍的處境更加艱難？

(A)美軍參戰 (B)俄國投降 (C)義大利倒戈 (D)法國投降。

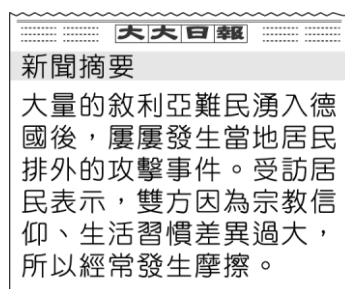
答案：(A)

31. () 「天愈冷，我們就愈車拼。人家現在都在說那個什麼 WTO 啊！只要品質讚，信用就好，不怕被人拼過。」從這段廣告詞中，我們可以看出臺灣人民的韌性，加入 WTO 之後，針對農業，我們應該努力的方向是什麼？

(A)降低農產品價格 (B)增闢耕地面積 (C)生產高品質的精緻農業 (D)政府輔導轉為其他產業。

答案：(C)

32. () 各國文化透過各種方式進行交流，下列何者最能解釋附圖中報導的狀況？



(A)國際分工現象 (B)西方文化擴張 (C)文化衝突現象 (D)在地文化式微。

答案：(C)

33. () 歷史上的「Tavoan」意指「交會之地」，過去是海水、陸地、沙洲交會的瀉湖；此稱呼源自早期居住安平一帶的平埔族人。當地的平埔族人是指下列何族？

(A)阿美族 (B)泰雅族 (C)西拉雅族 (D)布農族。

答案：(C)

34. () 附圖是 1938 年英國首相張伯倫在某次會議結束以後，於機場所拍攝的照片，張伯倫自豪地向群眾展示與希特勒的和平協定。該協定的獲取乃基於下列何者的犧牲？



(A)法國 (B)捷克 (C)德國 (D)蘇聯。(3-2)

答案：(B)

35. () 1860年代是近代世界重大的變革時期，在這期間，北美洲的美國因區域產業發展型態的差異，國內在國家發展方針上出現歧見，引發嚴重的軍事對抗；亞洲的中國則因貿易與文化上的問題，與歐洲國家發生多次衝突，失利的清帝國被迫推行改革；歐洲的義大利及日耳曼地區，則因民族主義的興起，出現建國運動，企圖克服外來阻礙，促成國家統一。上述義大利及日耳曼地區遭遇的「外來阻礙」，最主要是來自於下列哪些國家？〔99.第二次基測修訂〕

(A)俄國、英國 (B)英國、奧國 (C)奧國、法國 (D)法國、俄國。

答案：(C)

36. () 弘傑為畢業典禮表演活動創作了一首歌，他想知道這首歌曲著作財產權的保障期限，下列哪一位同學的說明最正確？

- (A) 保障期限會在著作人死亡時立即消滅。
(B) 若著作人沒有提出申請，就沒有保障期限。
(C) 保障期間是著作完成到著作人死後50年。
(D) 無限期保障，著作人死亡後可由其家屬持有。

答案：(C)

37. () 電影《奧本海默》敘述科學家奧本海默從1940年代至1959年的人生歷程。他最重要的事蹟就是主持曼哈頓計畫，成功製造出劃時代新武器，最後使用在日本國土上，終結戰爭。請問：上述「劃時代新武器」指的是下列何者？

(A)潛艇 (B)坦克 (C)毒氣 (D)原子彈。

答案：(D)

38. () 第一次世界大戰期間，英、法軍隊合作，遏阻了德軍的攻勢，雙方在西線形成何種戰局？

(A)殲滅戰 (B)宣傳戰 (C)壕溝戰 (D)閃電戰。

答案：(C)

39. () 「北大西洋公約組織、華沙公約組織、韓戰、越戰、古巴危機」，上述組織與事件都發生在下列哪一時期？

(A)第一次世界大戰期間 (B)美、蘇冷戰時代 (C)第二次世界大戰期間 (D)冷戰時代結束後。

答案：(B)

40. () 幾名網友在社群網站上討論一則與科技發展相關的國際新聞(如附圖)，他們的看法應與下列何者敘述最為相近？

熱門一問聊

妙妙 鄰國最近在公共場所安裝超過2億支的監視器，採用一套辨識人臉的系統，對於追蹤罪犯效果非常好。

昶祐 一般民眾個人的日常生活和隱私資料都被收集至資料庫中，我覺得這種監控行為已經侵害到人權。

玉瑩 我也有同感，這兩者之間的取舍需要審慎思考。



(A)科技發展為人類帶來生活福祉，卻也暗藏隱憂 (B)過度依賴科技，不利於人類社會進步發展 (C)科技應用範圍狹隘，助益有限 (D)政府應監控民眾日常行為，打擊犯罪。

答案：(A)