

## 40 題單題

1. ( ) 民國初年，某家報社的報導如下：教育部順應各界呼籲，頒發命令要求首都學務局、各省教育廳、各地高等與師範學校，根據國語統一籌備會函，將新式標點符號頒行全國。請問：教育部頒布此令的主要目的，最有可能是下列何者？ (A)能更便利閱讀文言文 (B)能避免斷句不同造成誤解 (C)能更有利於推廣印刷術 (D)能讓就讀小學者增加。

答案：(B)

小學入學率無關。

2. ( ) 「國民政府宣布將遷都□□，以西南各省做為抗戰大後方，並利用中國廣土眾民的條件，制定長期抗戰方針。」請問：□□是指哪一個都市？ (A)南京 (B)成都 (C)重慶 (D)北平。

答案：(C)

3. ( ) 汪老師在課堂上展示了一張示意圖，請判斷汪老師上課的內容，應與下列哪個國際組織有關？



- (A)世界貿易組織 (B)東南亞國家協會 (C)東南亞公約組織 (D)亞太經濟合作會議。

答案：(B)

4. ( ) 某書寫到：「此時只有軍心渙散、無法提供足夠防護力的軍人來保護美國大使館，首都區已經陷於火海之中，美國艦隊已經在外海待命，等的就是一聲令下，開始撤離行動。」請問：符合該書描述的時地選項是下列何者？ (A) 1949 年，南京 (B) 1953 年，韓國漢城 (C) 1975 年，越南西貢 (D) 1978 年，臺北。

答案：(C)

5. ( ) 在五四運動以前，鼓吹西方文化的雜誌只有新青年等數種，到民國 8 年 6 月以後，新出現的刊物竟高達百餘種，全力宣揚各種新潮思想。從這種成長，可以看出五四運動帶來什麼樣的改變？ (A)仇視洋人，各地出現教案 (B)新文化運動的影響擴大 (C)中國改以「天朝」自居 (D)推行自強運動，富國強兵。

答案：(B)

6. ( ) 在某本以近現代中國為背景的小說中寫到：「最近，國家開始實施新政策，由政府指定中央、交通、中國這幾家銀行發行法幣。我想，此政策若真能好好實行，改善過去幣制混亂的情況，買賣交易就比較好做了。」這段話所呈現的最可能是中國處於下列何種局勢下的情況？ (A)戊戌變法期間，朝廷推動經濟改革 (B)八國聯軍結束，朝廷陸續推行新政 (C)中華民國初創，政府收繳民間銀兩 (D)北伐統一完成，政府致力建設發展。【改寫自 105 年會考】

答案：(D)

7. ( ) 現居臺中的張爺爺，年輕時在上海是位理髮師。他回憶：局勢動盪後，理一次髮原本是 55 元，不到一個月理髮價已是 550 元，再隔一個月，必須收費 1,260 元，才能維持基本生計。請問：張爺爺年輕時所遇到的情況是？ (A)民國創立初期貨幣混亂 (B)北伐時期貨幣

貶值 (C)國共內戰激化導致通膨 (D)美國斷交貨幣貶值。

答案：(C)

8. ( ) 民國初年的學者梁漱溟認為，帝國主義、軍閥是中國人民的最大敵人。他在 1930 年的一封信中指出：「數年來的革命潮流中，大家所認為第一大仇敵是國際的資本帝國主義，其次是國內的封建軍閥。」請問：軍閥割據局面的產生始於下列何事？ (A)辛亥革命 (B)保路運動 (C)袁世凱逝世 (D)軍政府成立。

答案：(C)

9. ( ) 某書提及：「清廷想收回民間集資興建鐵路的權利，所以針對民間已投資者提出補償：在湖南、湖北，投資金額全數償還；在廣東，僅償還 60%，其餘 40%由政府股票支付；在四川，政府僅發給股票。這種處置引起四川士紳激憤，朝廷為控制騷亂，將部分湖北軍隊調往四川。」上述情況最可能為下列何者的發生提供了機會？ (A)自強運動 (B)戊戌政變 (C)武昌起事 (D)義和團事變。【104 年會考】

答案：(C)

10. ( ) 2019 年 12 月報載，婦女救援基金會將紀錄片阿媽的秘密原始膠捲捐贈給國家電影中心。婦援會表示，本片忠實記錄戰時受害者臺灣阿嬤們的故事。請問：該片的主题，最有可能是下列何者？ (A)南京大屠殺 (B)珍珠港事件 (C)核爆受難者 (D)慰安婦事件。

答案：(D)

11. ( ) 中國近代史上某一時期，曾有教授和大學生主張以口語化的新文學取代舊式古典文學，並有意識地反對許多傳統觀念與習俗，將婦女從傳統束縛中解放出來。這樣的主張應出現於下列何時？ (A)自強運動 (B)百日維新 (C)立憲運動 (D)新文化運動。

答案：(D)

12. ( ) 漠南非洲歷年饑荒不絕，面臨嚴重的糧食問題，成為國際長年關注的焦點。除氣候與戰爭因素外，漠南非洲常見饑荒主要尚與下列哪些原因有關？(甲)過度的開墾導致沙漠化加劇(乙)出生率下降導致高齡化嚴重(丙)經濟作物種植排擠糧食作物(丁)大量技術移民進入境內謀生 (A)甲乙 (B)甲丙 (C)乙丙 (D)乙丁。

答案：(B)

13. ( ) 一名 20 歲的男大生在網路上表示：他在上課時，不慎摔到女同學的手機，導致螢幕因此有些裂痕。女同學向他索賠 3 萬，男大生覺得不合理，因為 3 萬元已經能買一支全新的同型號手機了。依據民法的規定，下列敘述何者正確？ (A)男大生的父母須負相關賠償責任 (B)男大生必須依照對方的要求進行賠償 (C)男大生無須為其不小心的行為負擔賠償責任 (D)男大生雖須賠償，但應以維修手機、恢復原狀為原則。

答案：(D)

14. ( ) 以下是中國 天津某年慶祝元旦的相關報導：「政府要求各機關及各民眾團體，在元旦上午參加慶祝中華民國成立的紀念大會。當晚民眾提燈遍遊街市，高呼『勿忘國恥』、『抵制日貨』、『攘外必先安內』、『打倒燒香化紙、磕頭拜年的惡習』等口號。各街市商號張貼標語、懸燈結綵，國民黨黨旗和國旗飄揚天際，蔚為盛況。」上述內容最可能是描繪下列何時的景象？ (A) 1861~1895 年自強運動期間 (B) 1911 年四川省保路運動期間 (C) 1913 年國民黨發動二次革命期間 (D) 1928~1937 年十年建設期間。【改寫自 111 年會考】

答案：(D)

15. ( ) 附表為某四個國家對外主要的出口品清單，請由表中資料判斷，何者最可能為漠南非洲國家？

國家	主要出口品
甲	電腦、汽車、肉品
乙	鋼鐵、汽車、紡織
丙	咖啡、可可、石油、鐵礦

命題範圍： 8 年級下學期第四冊題庫卷

本試卷共七頁 此為第 3 頁

班級：\_\_\_\_\_ 座號：\_\_\_\_\_ 姓名：\_\_\_\_\_

丁 牛乳、稻米、鐵礦

(A)甲 (B)乙 (C)丙 (D)丁。

答案：(C)

16. ( ) 某項展覽上，展出附圖的歷史圖片。請問：此項展覽的主題，最有可能是下列何者？



(A)國共內戰的反思 (B)太平洋戰爭的展開 (C)抗戰期間人民的苦難 (D)軍閥統治下的顛沛流離。

答案：(C)

17. ( ) 1954 年，美國某位國務卿召開記者會，宣告即將與中華民國外交部部長簽約，是要讓兩國未來的共同軍事合作，能有長期正式條約作為依據。請問：該約最可能為下列何者？ (A)開羅宣言 (B)臺灣關係法 (C)雅爾達密約 (D)中美共同防禦條約。

答案：(D)

18. ( ) 1952 年 6 月，某國艦隊司令來臺後，在會議中致詞：「目前本艦隊雖在韓國負有作戰任務，好在距離不遠，如能預知匪犯臺灣之行動，至少兩日即可趕來協助。」請問：這位艦隊司令最有可能來自下列哪一國家？ (A)英國 (B)日本 (C)韓國 (D)美國。

答案：(D)

19. ( ) 清末，朝野人士面對外力的衝擊，提出不少意見。一日，小周在路上看到一張標語寫著：「驅逐韃虜，恢復中華，創建民國，平均地權。」請問：張貼此標語的應為下列何派人士？ (A)立憲派 (B)守舊派 (C)投降派 (D)革命派。

答案：(D)

20. ( ) 有位中國老農夫回憶：「當時人人將鍋、鏟全丟進煉鐵爐燒煉。因為上級交代蓋一條用來運鋼的道路，所以只好將墓塚石頭拿去墊路基，但我們一直沒有煉出夠多的數量，讓卡車來載運。」請問上述情況最可能發生在哪一時期的中國？ (A) 1850 年代 (B) 1900 年代 (C) 1950 年代 (D) 2000 年代。【改寫自 103 年會考】

答案：(C)

21. ( ) 位於東非的盧安達，因為長期的種族衝突，在 1994 年爆發死傷數十萬人的種族屠殺。為了不讓悲劇再度發生，現今盧安達政府將種族滅絕罪寫入憲法中，並設立「反種族滅絕委員會」，以回應這場全民的傷痛。根據上述內容判斷，盧安達政府的作為，想要傳達的想法為下列何者？ (A)加深種族歧視 (B)維護人性尊嚴 (C)限度個人發展 (D)減少貧富差距。

答案：(B)

命題範圍： 8 年級下學期第四冊題庫卷

本試卷共七頁 此為第 4 頁

班級：\_\_\_\_\_ 座號：\_\_\_\_\_ 姓名：\_\_\_\_\_

22. ( ) 王同學準備段考複習時，針對國共關係演變整理如下表。但「結果」欄位遲遲無法完成，留下了四個問號。請協助他由上到下依序排列，以利衝刺段考。

時間	關係	影響	結果
民國 12~16 年	聯俄容共	國民政府受到共產黨控制	?
民國 16~26 年	剿匪	引發部分軍民不滿	?
民國 26~34 年	全面抗戰	共產黨趁機壯大勢力	?
民國 34~38 年	動員戡亂	國共內戰大規模爆發	?

甲、中華民國政府播遷來臺

乙、張學良發動西安事變

丙、蔣中正發動清黨，另行成立南京國民政府




丁、國共雙方為了爭奪日軍占領區，爆發多次軍事衝突

(A) 甲乙丙丁 (B) 甲丁乙丙 (C) 丙乙丁甲 (D) 丙乙甲丁。

答案：(C)

23. ( ) 小慧回憶起她年輕時所參與的學生運動：「那一年是 1989 年，我與一群大學生聚集在廣場，向政府提出我們希望政治改革的訴求。但是，後來政府卻動用軍隊鎮壓了這場學生運動。」請幫她找出與該事件相關的照片是下列哪一張？



(A)  (B)  (C)  (D) 。

答案：(D)

24. ( ) 靜怡在書中看到一段話：「民國 20 年，日軍自行炸毀瀋陽附近的一段鐵路，然後藉口是中國軍隊所為，立即發兵進占東北。由此可知日本對中國的侵略野心。」以上的內容，敘述的應該是下列哪一事件的發生經過？ (A) 牡丹社事件 (B) 西安事變 (C) 九一八事變 (D) 滿洲國成立。

答案：(C)

25. ( ) 中國近代某一文章提到：「政府假借預備立憲的美名卻實行中央集權，假借推行新政卻搜刮民間錢財，對外則割讓土地，並出賣採礦權與鐵路經營權。人民反對政策，可能會被處死；如果人民自己出錢出力興修鐵路，又會被官方沒收。政府應該要保護人民，結果人民反而受到政府的傷害，如此不顧人民生命、財產的政府，誰還能忍受呢！」上文的主要訴求最可能是下列何者？ (A) 因對外戰爭受到挫敗，提倡學習西方的軍事及工業技術 (B) 推動制度層面的改革，以解決自強運動改革不彰的問題 (C) 對改革結果感到失望，體認到革命也是救國的途徑之一 (D) 宣導中國人應採君主制度，全面排除西方民主共和制度。【改寫自 111 年會考】

答案：(C)

26. ( ) 武昌起事後，成功推翻清廷，建立民國。但民初政局仍動盪不安，其原因來自下列何人缺乏維護共和體制的信念，推動擴充總統職權後，更想恢復帝制？ (A) 孫中山 (B) 袁世凱

命題範圍： 8 年級下學期第四冊題庫卷

本試卷共七頁 此為第 5 頁

班級：\_\_\_\_\_ 座號：\_\_\_\_\_ 姓名：\_\_\_\_\_

(C) 蔣中正 (D) 梁啟超。

答案：(B)

27. ( ) 附圖是民國 7 年的諷刺漫畫「誰謂中國人民能享受幸福耶」。圖中的人民跟在軍閥後面，身上背著各種包裹（負擔），呈現了人民的經濟壓力。請問：這張諷刺漫畫主要希望表達下列哪些現象？



- 甲、人民受到軍閥的奴役與壓榨  
乙、軍閥掌握中國人民的生死大權  
丙、人民無法脫離軍閥控制的困境  
丁、人民在軍閥的引導下自立自強

(A) 甲乙丙 (B) 甲乙丁 (C) 甲丙丁 (D) 乙丙丁。

答案：(A)

28. ( ) 附圖是描繪中國某時期出現的情況，根據內容判斷，此圖最可能呈現下列何者？



(A) 義和團事變 (B) 文化大革命 (C) 新文化運動 (D) 四川保路運動。【改寫自 103 年會考】

答案：(B)

29. ( ) 漠南非洲國家仍延續殖民時期的經濟型態，以礦產與熱帶栽培作物為主要輸出品，此種經營方式容易面臨下列哪項經濟問題？ (A) 糧食生產供給過剩 (B) 國內勞工供應短缺 (C) 易受國際市場價格影響 (D) 國內動亂使資金不敢投入。

答案：(C)

30. ( ) 阿芳到中國 陝西一帶旅遊，途中看到一個紀念碑，上面記載著關於中共紅軍突破國軍包圍後的「二萬五千里長征」。請問：「二萬五千里長征」的歷史背景，應該是下列何者？ (A) 蔣中正誓師北伐，完成統一 (B) 國民政府多次圍剿中共 (C) 日本進占東北地區，紅軍向西南方撤退 (D) 張學良希望國內一致抗日，因此發動兵諫。

答案：(B)

31. ( ) 附圖是一幅宣傳海報，此宣傳海報最早可能在下列何時何地傳布？



命題範圍： 8 年級下學期第四冊題庫卷

本試卷共七頁 此為第 6 頁

班級：\_\_\_\_\_ 座號：\_\_\_\_\_ 姓名：\_\_\_\_\_

(A) 1919~1930 年的臺北 (B) 1949~1960 年的臺北 (C) 1916~1928 年的瀋陽 (D) 1932~1945 年的瀋陽。【106 年會考】

答案：(D)

32. ( ) 東協十國的宗教信仰多元複雜，除了國際貿易帶來不同的宗教外，也與曾受到西方列強的殖民統治有關，至今殖民歷史仍然影響當地發展。請問：下列哪項東南亞特色與殖民歷史最無關？ (A)大量人民到海外提供勞務 (B)具有天主教信仰及英語等文化 (C)大都市多為鄰近港口的港埠型都市 (D)發展大規模的熱帶栽培業，種植油棕、橡膠等經濟作物。

答案：(A)

33. ( ) 新聞報導：汶萊是東南亞第一個實施穆斯林教法的國家，2019 年 4 月起將實施嚴刑峻法，規定同性戀、通姦罪犯會以石刑處死，竊盜罪也面臨斷肢酷刑，且行刑過程由穆斯林群眾共同見證。從上文畫線處判斷，汶萊的嚴刑峻法最想達到的刑罰效果為下列何者？ (A)懲罰犯罪者 (B)教育犯罪者 (C)懲罰一般民眾 (D)警告一般民眾。

答案：(D)

34. ( ) 下列關於犯罪的討論，哪個人的觀念較為正確？ (A)煜夜：刑事訴訟法主要規範犯罪的行為與類型 (B)小魚：刑法規範犯罪的追訴及處罰犯罪的過程 (C)無缺：僅檢察官能對犯罪嫌疑人提起刑事訴訟 (D)艾克：檢察官不會主動調查告訴乃論的刑事案。

答案：(D)

35. ( ) 二十世紀起，美國積極介入國際事務。1950 年代起，東亞某一場以美軍為主力的軍事行動中，美國除了原子彈沒有動用外，幾乎把當時的尖端武器如直升機等都用了，也付出三十多萬傷亡的代價，最終還是被迫撤離。請問：這場軍事行動的地點，最有可能是下列何地？ (A)朝鮮半島 (B)菲律賓 (C)越南 (D)泰國。

答案：(C)

36. ( ) 「紓解訟源」是近年司法改革的重點之一，其目的是希望讓民眾在提起訴訟前，能透過公正且具有與法院確定判決相同效力的途徑來解決糾紛，這種方式既可避免耗時的訴訟程序，也能減少司法資源的浪費。下列哪種處理方式最符合「紓解訟源」的作法？ (A)房客租金逾期繳交，雙方簽訂和解契約 (B)為解決遺產糾紛，直接在法官面前和解 (C)車禍無人受傷，雙方私下和解賠償損失 (D)遭友積欠債務，至調解委員會聲請調解。【111 會考改寫】

答案：(D)

37. ( ) 附表為某一時期官方所頒行機關學校放假日期的部分內容，根據內容判斷，此一日程最可能由下列何者所頒行？

放假日 期	放假事由及天數
1/1	中華民國開國紀念，放假一天
1/2-1/3	新年，放假二天
3/12	孫中山逝世紀念，放假一天
3/29	黃花岡七十二烈士殉國紀念，放假一天
10/10	中華民國國慶紀念，放假一天
11/12	孫中山誕辰紀念，放假一天

(A) 1895 年的清廷 (B) 1912 年的北京臨時政府 (C) 1929 年的南京國民政府 (D) 1945 年的臺灣總督府。【改寫自 108 年會考】

答案：(C)

38. ( ) 2011 年敘利亞爆發內戰，造成數十萬人傷亡。根據聯合國兒童基金會報告，敘利亞孩童因內戰傷亡、徵召為童兵的數量遽增，有近 600 萬兒童仰賴人道救援過活。下列何者為聯

命題範圍： 8 年級下學期第四冊題庫卷

本試卷共七頁 此為第 7 頁

班級：\_\_\_\_\_ 座號：\_\_\_\_\_ 姓名：\_\_\_\_\_

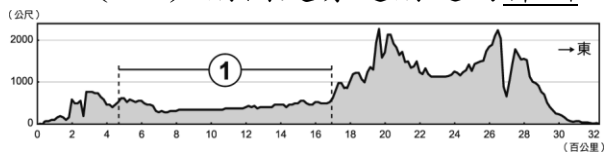
合國基於保障兒童基本人權，而通過的具體規範？ (A)世界人權宣言 (B)兒童權利公約  
(C)少年事件處理法 (D)兒童及少年福利與權益保障法。

答案：(B)

39. ( ) 以下是一位旅行者到訪上海後的見聞：「此區工廠地帶可以看到日本戰機轟炸的痕跡，但是如果來到租界區，興盛的商業中心立即映入眼中。在此，歐、美國家的主要銀行林立，國民政府的官方銀行：中央銀行，以及中國銀行、交通銀行等仍然繁忙地繼續營業，處理租界區內的金融交易。」此人最可能是在下列何時參訪上海？ (A) 1830 年代 (B) 1890 年代 (C) 1930 年代 (D) 1990 年代。【107 年會考改寫】

答案：(C)

40. ( ) 附圖是赤道附近的非洲地形剖面圖，請問：①的地形類型最可能為下列哪張等高線圖？



(A) (B) (C) (D)

答案：(B)