

樟樹國際實中 114-2 八年級上學期第三冊補考題庫

1. () 和宗到臺北旅行時，參觀了二二八和平紀念公園，在公園裡看到了臺灣最古老的火車頭，這是由臺灣巡撫劉銘傳所引進的「騰雲號」。根據史實判斷，劉銘傳在臺興建鐵路，是配合清廷當時何種新政下的交通建設？
(A)自強運動 (B)明治維新 (C)立憲運動 (D)唐化運動。
答案：(A)
2. () 有四位國中同窗好友，長大後各奔東西，透過臉書終於在去年6月初再度聯繫上。根據他們的聊天內容判斷，哪位同學現在最可能住在日本地區？
(A)方瑜：我住的地方很冷，家裡設置「溫突」來禦寒 (B)近格：這裡有世界上最好吃的泡菜，下次回臺灣分享給大家 (C)宋維：我住在世界人口最多的地方，每年春運那可是一大惡夢啊 (D)頌凱：每天看到我心中聖山—富士山不同的風貌，是我生活的動力。
答案：(D)
3. () 在中國歷史上，有一位開國皇帝，他終結了蒙古人所建立的王朝，定都今日的江蘇南京。上述這位皇帝為下列何者？
(A)漢武帝 (B)唐太宗 (C)宋太祖 (D)明太祖。
答案：(D)
4. () 喬峰在網路上和網友聊天：「我來自中國，我的家鄉一月月均溫是 19°C ，七月月均溫約 30°C ，年降水量 2,013 mm。」他最可能住在哪個氣候區？
(A)熱帶季風氣候 (B)溫帶草原氣候 (C)溫帶沙漠氣候 (D)高地氣候。
答案：(A)
5. () 中國的人口分布情形各地不同，目前以下列哪一個地區的人口分布最為密集？
(A)東部地區 (B)西部地區 (C)高原地區 (D)離島地區。
答案：(A)
6. () 因深感鴉片對清廷的危害甚大，於是道光皇帝派何人馳赴廣州查禁鴉片？
(A)奕訢 (B)林則徐 (C)李鴻章 (D)曾國藩。
答案：(B)
7. () 老師上課時在黑板上列舉三位歷史人物：張騫、鄭和、利瑪竇。老師所要探討的主題是下列何者？
(A)國際貿易 (B)佛教東傳 (C)文化交流 (D)改革變法。
答案：(C)
8. () 中國的氣候類型呈現多樣化的特色，但較缺乏寒帶的氣候區，形成這種現象的主要因素為下列何者？
(A)地勢平坦 (B)水氣豐富 (C)海岸線長 (D)位居中緯。
答案：(D)
9. () 哥倫布到達美洲前的八十多年，中國明代的鄭和即率領艦隊，從事遠航的行動。鄭和出使西洋，最遠曾到達何處？
(A)地中海沿岸 (B)非洲東岸 (C)義大利半島 (D)中南美洲。
答案：(B)
10. () 根據我國《憲法》規定，人民的基本權利有哪些？(甲)參政權(乙)守法權(丙)自由權(丁)受益權(戊)平等權
(A)甲乙丙丁 (B)甲丙丁戊 (C)甲乙丁戊 (D)乙丙丁戊。
答案：(B)
11. () 政府官員執行的政策失敗時，必須為政策負責，若是因此無法取信於民，更應該去職以示負責。上述符合民主政治的哪一項特色？
(A)政黨政治 (B)法治政治 (C)責任政治 (D)民意政治。
答案：(C)
12. () 中國的人口分布狀況是由哪兩個邊境都市連成一線，分成稀疏和密集的兩個區域？
(A)拉薩、上海 (B)黑河、騰衝 (C)黑河、香港 (D)哈爾濱、騰衝。
答案：(B)
13. () 附圖中民眾的訴求，應是為了維護自身的何種權利？



- (A)財產權 (B)工作權 (C)隱私權 (D)環境權。
答案：(D)
14. () 附圖為中國境內簡易的分區圖，圖中甲區域的陸上鄰國為下列哪些國家？



- (A)北韓、越南 (B)尼泊爾、俄羅斯 (C)俄羅斯、阿富汗 (D)北韓、俄羅斯。

答案：(D)

15. () 中國喝茶的歷史有五千年之久，形成獨特的品茶文化。影杉前往中國茶葉生產最多的地方，並在當地打卡（位置如附圖）。請問：當地由於屬於何種氣候類型，極為適宜種植茶葉？



(A)副熱帶季風 (B)溫帶季風 (C)高地氣候 (D)乾燥氣候。

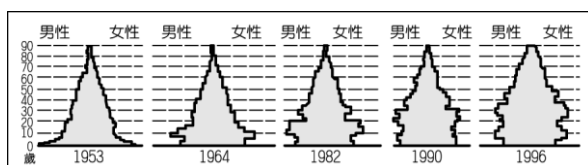
答案：(A)

16. () 日本是由眾多島群所組成的國家，其中以哪一個島嶼的緯度最高、氣溫較低？

(A)北海道 (B)本州 (C)四國 (D)九州。

答案：(A)

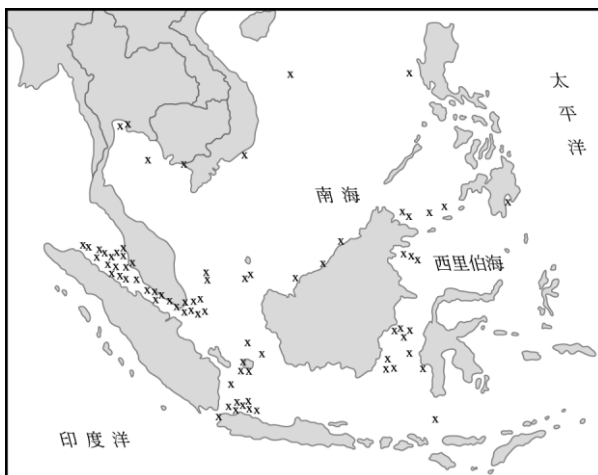
17. () 附圖為顯示中國人口年齡結構變化的人口金字塔圖。從圖中可以看出自 1950 年來，該地人口金字塔出現很大的變化。請問：造成此種變化的主要原因是下列何者？〔90.第一次基測〕



(A)人口密度增加 (B)推行一胎化政策 (C)人口大量移入都市 (D)人口總數急遽增長。

答案：(B)

18. () 「海盜」是指出沒海洋，憑藉暴力威脅等手段，搶劫過往船隻財物的歹徒。他們的存在對海運安全構成極大威脅，是國際間相當令人頭痛的問題。附圖是某雜誌報導 2004 年 1 月到 9 月海盜最常出沒的區域圖，其中「x」代表該區曾發生海盜攻擊事件的地點。歷史上，有一位人物航經此區域時剿平當時為亂的海盜，提高了國家的聲望，奠定日後華僑在此地區發展的基礎。這位人物應是下列哪一位？〔96.第一次基測修訂〕



(A)張騫 (B)朱熹 (C)畢昇 (D)鄭和。

答案：(D)

19. () 行政院法務部於選舉期間推出「反賄選」宣傳海報，警惕候選人不要做出違法情事。下列哪一位候選人的作為與政府的期望相同？

(A)①號候選人—拿出高額的金錢吸引選民參與政見發表會 (B)②號候選人—寫黑函製造謠言，以增加自己的勝選機會 (C)③號候選人—關心選民生活情況，推出完善的競選政見 (D)④號候選人—擺出滿漢全席，宴請街坊鄰居。

答案：(C)

20. () 福氣國的政府在運作時，將中央政府的權力分為行政、立法、司法三權，並由三個不同部門行使。其中行政權與立法權相互制衡，司法權獨立運作。依上述說明，可知福氣國的分權原則是採用下列何人的理論？

(A)孫中山先生 (B)孟德斯鳩 (C)華盛頓 (D)艾克頓爵士。

答案：(B)

21. () 紡織工業為臺商早期到中國投資設廠的主要工業活動類型，其設立的區位條件因素最主要為下列何者？

(A)原料 (B)動力 (C)勞工 (D)資金。

答案：(C)

22. () 中國糧食作物的分布呈現「南稻北麥」的特色，其南北畫分的依據和下列哪一項因素有關？

(A)地形起伏 (B)氣候條件 (C)耕地大小 (D)市場需求。

答案：(B)

23. () 導演想要以清末（20 世紀初）的上海為時空背景拍攝電影，片中出现下列何種情節是不合理的？

(A)自行車馳騁在街道上 (B)和朋友到番菜館用餐 (C)婦女應遵守「三從四德」的觀念興起 (D)回家可以享受乾淨的自來水沐浴清潔。

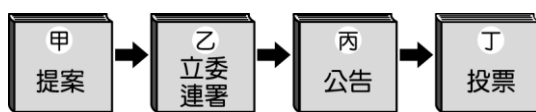
答案：(C)

24. () 中國南北兩端的緯度約跨 35 度，因此形成不同類型的季風氣候區。請問：在中國的季風氣候中，不包括下列何種類型？

(A)熱帶季風 (B)副熱帶季風 (C)溫帶季風 (D)寒帶季風。

答案：(D)

25. () 宜臻平時工作繁忙，投票前於網路上閱讀「讓你一次搞懂公投」的懶人包，附圖有關公投的流程哪裡出錯了？



(A)甲 (B)乙 (C)丙 (D)丁。

答案：(B)

26. () 某機構最開始由一位親王負責，下轄許多軍機大臣，專門統籌處理中外事務，包括接見使節團、推動新式教育、交通、工程等現代化建設。該機構為下列何者？

(A)總理各國事務衙門 (B)市舶司 (C)驛站 (D)郊。

答案：(A)

27. () 附圖是日本的蛋包飯及日文發音，由圖可見日本文化具有何種特色？



(A)單一性 (B)多元性 (C)傳統性 (D)專業性。

答案：(B)

28. () 根據中國 2010 年人口普查數據顯示，2000~2019 年間的出生人口為 1.46 億人，其中男生比女生多了 1,300 萬人。上文敘述顯示出下列何種意涵？

(A)人口數量多 (B)人口分布不均 (C)性別比失衡 (D)經濟發展迅速。

答案：(C)

29. () 政府為推動公務人力考選、培訓、任用的三合一政策，設立國家文官培訓所，負責辦理公務人員相關訓練。根據上述內容判斷，國家文官培訓所應隸屬於下列哪一機關？〔96.第二次基測〕

(A)考試院 (B)行政院 (C)立法院 (D)監察院。

答案：(A)

30. () 我國中央政府體制為了避免濫用私人與杜絕國會專制的缺陷，將考試權與監察權特別獨立出來。上述是採用何人提出的什麼理論？

(A)孫中山先生；五權分立 (B)艾克頓爵士；權力分立 (C)孟德斯鳩；三權分立 (D)孫中山先生；主權在民。

答案：(A)

31. () 附圖為中國歷史上某位皇帝的功績，雖然他建樹頗多，但卻也因濫用民力，加上嚴刑峻法，使人民心生怨恨。加上他的繼任者又昏庸暴虐，而導致亡國。上述是指哪一位歷史人物？



(A)唐太宗 (B)秦始皇 (C)漢武帝 (D)北魏孝文帝。

答案：(B)

32. () 1979 年起中國為了達成下列何種人口目標，曾一度積極實施「一胎化政策」？

(A)降低出生率 (B)減少移出率 (C)平衡區域發展 (D)增加人力資源。

答案：(A)

33. () 報載：2020 年總統大選，Youtuber 們曾合拍影片，呼籲民眾返鄉投票，直呼「投票，我們一起來決定臺灣的未來」。拍攝這支影片是希望達到何種效果？

(A)監督政府謹慎執政 (B)提升選民民主素養 (C)積極提名優秀候選人 (D)鼓勵人民政治參與。

答案：(D)

34. () 隨著薪資高漲及人口老化，日本為降低生產成本，將部分產業移至下列哪些工資較低廉的國家？

(A)中國、東南亞 (B)南韓、東南亞 (C)中國、南韓 (D)中國、印度。

答案：(A)

35. () 我國中央與地方政府職權的畫分標準為下列何者？

(A)事務的重要性 (B)事務的性質 (C)事務所需的經費多寡 (D)事務的難易度。

答案：(B)

36. () 中國經濟改革開放後，最早設立的五個經濟特區在下列哪一個經濟帶？



(A)甲 (B)乙 (C)丙 (D)丁。

答案：(B)

37. () 關於公職人員選舉的原則，下列哪一位選民的理解最正確？

- (A) 因為我在選舉區設籍才 6 個月，所以不具有投票權。
郭先生
- (B) 我和總統都只擁有一張選票，且選票具有同等價值。
邱小姐
- (C) 若我不在國內，我可以委託我太太替我行使投票權。
齊先生
- (D) 為了落實責任政治，投票時必須簽署個人姓名。
潘小姐

答案：(B)

38. () 13 世紀義大利某教堂的神父告訴信徒，虔誠向上帝禱告並懺悔，便可躲過帶著火炮（火藥），來自東方的「黃禍」。下列哪一項是神父所指的「黃禍」？

(A) 怛羅斯之役 (B) 張騫出使西域 (C) 蒙古西征 (D) 玄奘前往印度取經。

答案：(C)

39. () 北海道的觀光業相當發達，其中外國遊客中以臺灣人的比例最高。請問：北海道的觀光促進協會參加臺灣夏季旅展時，將主打當地何種特色最為適合？

(A) 熱帶海洋風情 (B) 涼爽避暑勝地 (C) 時尚都會之旅 (D) 古都風情尋幽。

答案：(B)

40. () 現代國家是為人民而存在，附圖中所討論的事件顯示該國未具備現代民主國家的哪一項功能？



(A) 促進文化 (B) 發展經濟 (C) 實施福利 (D) 保障人權。

答案：(D)