

# 樟樹國際實中 114-2 九年級上學期第五冊補考題庫

1. ( ) 一位 16 世紀的天文學家墳墓終於被確認，考古學家透過 2 束頭髮與 1 顆牙齒比對其身分。這位天文學家生前主張「地球並非宇宙中心」，震撼當時世界，並挑戰天主教教會傳統的「地球中心說」。上述天文學家最可能是下列何人？  
(A)牛頓 (B)薄伽丘 (C)哥白尼 (D)米開朗基羅。

答案：(C)

2. ( ) 南極洲因終年冰雪覆蓋，氣候極端嚴寒，加上地勢高峻、交通不便，不適合人類長期居住與經濟開發。根據 1959 年《南極條約》規定，各國不得在南極進行商業開採活動，僅限於某用途之用。上述「某用途」最可能為下列何者？  
(A)開採石油資源 (B)發展航空運輸 (C)進行金融貿易 (D)從事科學研究。

答案：(D)

3. ( ) 下列是某社群網站的發文，根據內容判斷，該作物應位生長於哪一氣候？

大家最愛的加州葡萄從陽光充沛的美國直送來臺！  
來自加州的葡萄粒粒飽滿、甜度驚人，清脆的口感讓人一吃就停不下來！  
葡萄小知識：加州夏乾冬雨，炎熱乾燥的夏天，以及充足的陽光有利於葡萄的生長。

(A)溫帶地中海型氣候 (B)夏雨型暖溫帶氣候 (C)溫帶大陸性氣候 (D)溫帶海洋性氣候。

答案：(A)

4. ( ) 在歷史上，西亞、埃及、印度與中國等古文明皆誕生於大河流域，其原因最可能為下列何者？  
(A)具天然屏障，能防禦外敵 (B)氣候溫暖多雨，適宜人居 (C)擁有充足水源，利於農耕 (D)物種生態多元，有利狩獵。

答案：(C)

5. ( ) 近年來景氣未見好轉，房市持續低迷，但建商依舊推出頂級豪宅建案，將目標鎖定在金字塔頂端的高消費能力族群。根據上述，建商主要考量的是哪一種生產課題？  
(A)如何生產 (B)生產什麼 (C)為誰生產 (D)為何生產。

答案：(C)

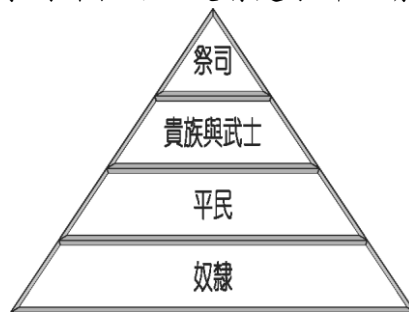
6. ( ) 北美洲的發展和其優越的地理位置有關，該地區以哪一個海洋與歐洲相望，形成 20 世紀最重要的經貿路線？  
(A)大西洋 (B)太平洋 (C)北極海 (D)印度洋。

答案：(A)

7. ( ) 阿豪是位武士，信奉因果報應、靈魂輪迴的婆羅門教，聽從祭司的指示，並相信他的身分從出生起就被決定好了。依照上述內容，阿豪所處的社會應是實施下列何種制度？  
(A)奴隸制度 (B)種姓制度 (C)宗法制度 (D)民主制度。

答案：(B)

8. ( ) 歷史老師在上課時，拿出如附圖的圖片讓同學對課程可以更清楚了解。請問：老師的教學內容應該是下列何者？



(A)蒙古的種族政策 (B)古埃及的統治政策 (C)印度的種姓制度 (D)周代的宗法制度。

答案：(C)

9. ( ) 美國日前對於墨西哥祭出許多新措施，如在兩國邊境上築高牆以防止偷渡，並要求設置於墨西哥的公司回美國生產，造成兩國間的緊張關係。下列哪一個國家和這兩國同為 USMCA 的國家成員，最有機會成為和事佬？  
(A)巴西 (B)阿根廷 (C)加拿大 (D)智利。

答案：(C)

10. ( ) 母語教學是當前臺灣極力推廣的教學內容，在小學階段多半都設有母語教學的課程。請問：在西方歷史上的哪一個時期，各民族興起以方言來從事創作？  
(A)希臘時代 (B)文藝復興 (C)古埃及時代 (D)羅馬時代。

答案：(B)

11. ( ) 附表為 1514 至 1800 年黑奴被販運到主要三大洲的統計數據。乙最可能是下列哪一洲？〔109.會考〕

州別 時間	甲	乙	丙
1514~1600 年	652	58,754	168
1601~1700 年	4,160	645,460	847
1701~1800 年	4,515	4,569,975	2,658

(A)美洲 (B)亞洲 (C)非洲 (D)歐洲。

答案：(A)

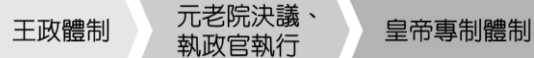
12. ( ) 小美喜歡研究西洋文學，下列哪些人是文藝復興時期的文學家，作品可供其參考？(甲)亞里斯多德(乙)薄伽丘(丙)蘇格拉底(丁)荷馬(戊)莎士比亞  
(A)甲丙 (B)乙戊 (C)丙丁 (D)甲丁。

答案：(B)

13. ( ) 下列有關「利潤」的敘述，何者錯誤？  
(A)利潤＝產品價格×銷售量 (B)生產者從事生產行為的主要目的是為了獲取利潤 (C)利潤為銷貨收入扣除生產成本所剩下的部分 (D)廠商要提高利潤，可從增加銷貨收入或降低生產成本著手。
14. ( ) 小丸子將三個西方早期大帝國，依建立的先後順序排列，下列何者正確？(甲)亞歷山大帝國(乙)波斯帝國(丙)羅馬帝國  
(A)乙丙甲 (B)乙甲丙 (C)丙甲乙 (D)甲乙丙。
15. ( ) 在兩河流域以東的亞洲高原地區，長期以來有一個高地民族在那裡生活，他們的宗教信仰崇拜光明及火。上述資料中的民族是指下列何者？  
(A)蘇美人 (B)巴比倫人 (C)波斯人 (D)希伯來人。
16. ( ) 南歐的農業活動為當地重要的產業，耕種方式以灌溉農業為主。請問：這和下列何者關係最為密切？  
(A)面積廣大 (B)山多田少 (C)海岸線長 (D)夏乾冬雨。
17. ( ) 「這是一座8到10世紀間繁榮的城市，有富麗堂皇的宮殿，城內寺院眾多，並無崇奉任何人物和神像；寺院外觀為回教建築風格。商店中有來自各地的商品，琳琅滿目的堆放著。」請問：這段文字所形容的最可能是下列哪一座城市？〔91.第一次基測〕  
(A)長安 (B)羅馬 (C)威尼斯 (D)巴格達。
18. ( ) 2020年9月，羅馬尼亞警方在東北部尼亞姆茨(Neam)市郊一處房屋的地牢，搜出著名科學家牛頓及伽利略被盜的書稿，估計價值250萬英鎊。上述書稿是哪一時期的重要文件？  
(A)12~13世紀 (B)14~15世紀 (C)16~17世紀 (D)18~19世紀。
19. ( ) 附圖是某史事的起源地區與傳播方向示意圖，下列何者最足以呈現該史事的內涵？〔106.會考修訂〕



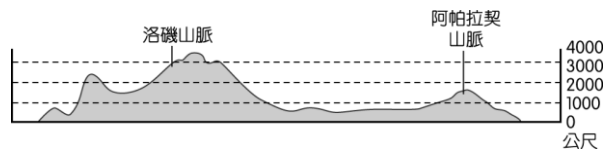
- (A)研究古典文獻，強調人文主義 (B)改革猶太教，宣揚平等博愛 (C)議會政治興起，發展責任內閣 (D)伊斯蘭教興起，擴張至各地。
20. ( ) 土石流的威力驚人，當滾滾沙土從山坡滑落，將造成生命財產的重大損失。請問：這種現象通常和下列何者關係最大？  
(A)乾旱 (B)豪雨 (C)強風 (D)寒流。
21. ( ) 英國早期以煤礦發展工業，成為經濟強國，進入20世紀後，由於何種能源的開採，得以維持工業優勢？  
(A)石油 (B)水力 (C)天然氣 (D)太陽能。
22. ( ) 附圖是歷史老師在講解某一單元時整理的重點。請問：老師在講解的單元是下列何者？



- (A)波斯帝國的政權 (B)埃及法老王的統治 (C)古羅馬的政治發展 (D)亞歷山大帝國的擴張。
23. ( ) 附圖是俄羅斯的地形分區圖，哪一地區是它的精華區，農業發達？



- (A)甲 (B)乙 (C)丙 (D)丁。
24. ( ) 北美洲的勞力成本較高，但農業總生產成本卻較低，最主要的原因來自於下列哪一項因素的影響？  
(A)機械化程度高 (B)品種改良 (C)水利建設 (D)政府補貼。
25. ( ) 附圖為某地區的地形剖面圖，請根據圖中的地形分布加以判斷，該地區應位於下列何處？



(A)南美洲 (B)歐洲 (C)北美洲 (D)非洲。

答案：(C)

26. ( ) 中世紀的西歐，各個王國各自為政，交通與資訊又極度不發達。在此種狀況下，某組織擔負起維持社會秩序的責任，他們也保存古籍，也參與人民生活裡重要的時刻，凡舉出生、結婚、死亡等。請問：上述組織應是下列何者？

(A)希臘正教教會 (B)基督教會 (C)拜占庭帝國 (D)商人貿易組織。

答案：(B)

27. ( ) 北極海附近人煙稀少，人口密度相當低，僅有部分原住民生活其間。這些原住民所必須克服的最大問題為何？

(A)氣候嚴寒 (B)風力強勁 (C)土地狹小 (D)缺乏淡水。

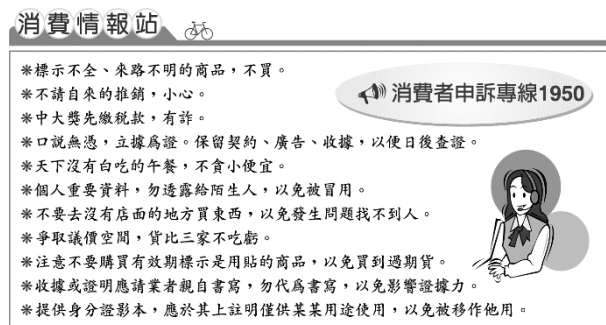
答案：(A)

28. ( ) 歐洲各地區的氣候類型不同，其中哪一個氣候區出現終年溫暖有雨的現象？

(A)高地氣候 (B)溫帶大陸性氣候 (C)溫帶海洋性氣候 (D)溫帶地中海型氣候。

答案：(C)

29. ( ) 附圖這張海報說明政府正在推廣消費新生活運動，顯示政府重視下列何事？



(A)建立守法的精神 (B)倡導開源節流觀念 (C)保護消費者的權益 (D)培養現代公民的素養。

答案：(C)

30. ( ) 北美洲的沙漠氣候區位於西南部地區，由於哪一座山脈阻擋了盛行西風，因此氣候乾燥？

(A)安地斯山脈 (B)阿帕拉契山脈 (C)阿爾卑斯山 (D)洛磯山脈。

答案：(D)

31. ( ) 美國研究員在西伯利亞地區永凍土層中採集出 13 種古代的病原體，而其仍具有傳染性，也被稱為「殭屍病毒」，揭示全球暖化帶來的潛在新危險。目前已知全球暖化可能帶來什麼危害？(甲)北極海冰面積減少(乙)島國國土面積增加(丙)珊瑚白化(丁)森林大火頻仍

(A)甲乙 (B)乙丙 (C)甲丙丁 (D)甲乙丙丁。

答案：(C)

32. ( ) 目前世界各主要的經濟組織當中，哪一個有發行共同的貨幣，提供大多數的會員國流通使用？

(A)世界貿易組織 (B)申根區 (C)聯合國 (D)歐洲聯盟。

答案：(D)

33. ( ) 歐洲的山脈主要呈東西走向，有利於盛行風深入內陸，造成各地普遍溼潤有雨。依上述判斷，歐洲盛行風向應該為何？

(A)西風 (B)北風 (C)東北風 (D)西南風。

答案：(A)

34. ( ) 「理察是羅馬帝國時期某一宗教的信徒，他因不肯向皇帝的塑像行禮，結果受到政府的迫害。沒想到數百年後，他信仰的宗教反而成為羅馬帝國國教，大受尊崇。」理察信奉的應是下列哪一宗教？〔95.第一次基測〕

(A)佛教 (B)猶太教 (C)基督教 (D)伊斯蘭教。


答案：(C)

35. ( ) 俄羅斯當地的人口分布和農業發展受到何者的影響最為明顯？

(A)地形氣候 (B)河川流向 (C)土地面積 (D)鄰國關係。

答案：(A)

36. ( ) 秀嫻正在考量公司的營運項目，對著附圖中的三份企畫書猶豫不決，不知如何取捨。請問：秀嫻所考量的是下列哪一項生產課題？



(A)生產什麼 (B)為誰生產 (C)為何生產 (D)如何生產。

答案：(A)

37. ( ) 小天到澳洲留學，在學校看到澳洲的國旗飄揚（如附圖），可知道此國曾被何國殖民？





(A)英國 (B)法國 (C)西班牙 (D)葡萄牙。

答案：(A)

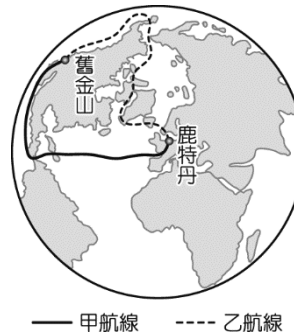
38. ( ) 大學畢業十年後的同學會中，同學們聊到各自的事業，如附表。請問：何人所處的市場競爭程度最高？

志郎	這附近沒有跟我同類型的店家。
豆子	市場上只有我在生產某產品。
尹之柱	某產品的價格由我的公司所控制。
善益	我必須削價競爭才能吸引消費者。

(A)志郎 (B)豆子 (C)尹之柱 (D)善益。

答案：(D)

39. ( ) 附圖為荷蘭鹿特丹到美國舊金山的兩條海運航線。圖中甲航線為全年的航線，而乙航線雖然距離較短，但目前僅限於夏季通行，未來可能也可全年通航，其主要原因為何？



(A)板塊擠壓 (B)全球暖化 (C)冰河侵蝕 (D)地層下陷。

答案：(B)

40. ( ) 在 21 世紀的今天，跨越國際的經濟活動普遍發生，根據以下媒體的報導判斷，這些跨國企業所做的改變目的為何？

經濟前線

近 10 年來，工資大幅調漲已讓在該地區設廠的優勢消失，許多跨國企業開始把生產製造的部門移到勞工眾多且工資較低廉的東南亞國家。

(A)開發自然資源 (B)避免勞資衝突 (C)降低生產成本 (D)降低國際運費。

答案：(C)